

















# blad steen schaar

Speel blad steen schaar, de winnaar lost 1 oefening op zijn kaart op.  
Is het juist, dan mag je het vakje kleuren. Wie als eerste aan de finish is, wint.

  	  
$3 + 2 =$ <input type="text"/>	$4 + 1 =$ <input type="text"/>
$6 - 3 =$ <input type="text"/>	$5 - 2 =$ <input type="text"/>
$1 + 5 =$ <input type="text"/>	$3 + 3 =$ <input type="text"/>
$5 - 1 =$ <input type="text"/>	$6 - 1 =$ <input type="text"/>
$2 + 4 =$ <input type="text"/>	$1 + 3 =$ <input type="text"/>
$4 - 2 =$ <input type="text"/>	$3 - 2 =$ <input type="text"/>
$3 + 3 =$ <input type="text"/>	$2 + 2 =$ <input type="text"/>
$5 - 4 =$ <input type="text"/>	$6 - 4 =$ <input type="text"/>
$1 + 4 =$ <input type="text"/>	$2 + 3 =$ <input type="text"/>
$6 - 5 =$ <input type="text"/>	$5 - 5 =$ <input type="text"/>
	







# blad steen schaar

Speel blad steen schaar, de winnaar lost 1 oefening op zijn kaart op.  
Is het juist, dan mag je het vakje kleuren. Wie als eerste aan de finish is, wint.

  	  
$3 + 3 =$ <input type="checkbox"/>	$2 + 1 =$ <input type="checkbox"/>
$5 - 4 =$ <input type="checkbox"/>	$6 - 1 =$ <input type="checkbox"/>
$2 + 3 =$ <input type="checkbox"/>	$5 + 1 =$ <input type="checkbox"/>
$5 - 3 =$ <input type="checkbox"/>	$4 - 3 =$ <input type="checkbox"/>
$4 + 2 =$ <input type="checkbox"/>	$1 + 4 =$ <input type="checkbox"/>
$6 - 4 =$ <input type="checkbox"/>	$3 - 2 =$ <input type="checkbox"/>
$1 + 5 =$ <input type="checkbox"/>	$2 + 3 =$ <input type="checkbox"/>
$6 - 1 =$ <input type="checkbox"/>	$6 - 3 =$ <input type="checkbox"/>
$1 + 3 =$ <input type="checkbox"/>	$2 + 4 =$ <input type="checkbox"/>
$5 - 2 =$ <input type="checkbox"/>	$5 - 1 =$ <input type="checkbox"/>
	

# blad steen schaar

Speel blad steen schaar, de winnaar lost 1 oefening op zijn kaart op.  
Is het juist, dan mag je het vakje kleuren. Wie als eerste aan de finish is, wint.

  	  
$1 + 4 =$ <input type="text"/>	$1 + 5 =$ <input type="text"/>
$3 - 1 =$ <input type="text"/>	$6 - 1 =$ <input type="text"/>
$4 + 2 =$ <input type="text"/>	$3 + 3 =$ <input type="text"/>
$6 - 2 =$ <input type="text"/>	$5 - 2 =$ <input type="text"/>
$5 + 1 =$ <input type="text"/>	$2 + 4 =$ <input type="text"/>
$5 - 4 =$ <input type="text"/>	$6 - 0 =$ <input type="text"/>
$2 + 3 =$ <input type="text"/>	$3 + 2 =$ <input type="text"/>
$5 - 3 =$ <input type="text"/>	$4 - 3 =$ <input type="text"/>
$1 + 3 =$ <input type="text"/>	$4 + 1 =$ <input type="text"/>
$4 - 4 =$ <input type="text"/>	$6 - 3 =$ <input type="text"/>
